



## 12 Trigonometrie

Fast alle Eigenschaften der trigonometrischen Funktionen (Cosinus, Sinus und Tangens) können aus der **Bewegung eines Punktes** auf dem **Einheitskreis** (mit Geschwindigkeit 1) hergeleitet werden.

### Definition 12.1 Einheitskreis

Der **Einheitskreis** ist der Kreis im 2-dimensionalen Koordinatensystem mit Zentrum  $(0,0)$  und Radius 1.

### Definition 12.2 Winkel und Drehsinn

Winkel im Einheitskreis werden von der positiven  $x$ -Achse in Richtung der positiven  $y$ -Achse gemessen. D.h. der **positive Drehsinn** im gebräuchlichen Koordinatensystem entspricht dem **Gegenuhrzeigersinn**.

### Definition 12.3 $P_\alpha$

Für einen beliebigen Winkel  $\alpha$  ist  $P_\alpha$  derjenige Punkt auf dem Einheitskreis mit  $\sphericalangle XOP_\alpha = \alpha$  (links steht der orientierte Winkel), wobei  $X = (1,0)$  und  $O = (0,0)$ .

### Definition 12.4 Cosinus und Sinus

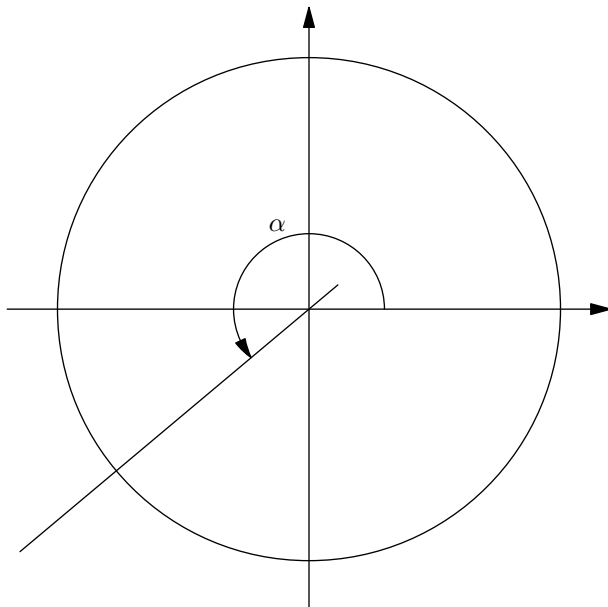
Für jeden Winkel  $\alpha$  ist  $\cos(\alpha)$  die  $x$ -Koordinate von  $P_\alpha$  und  $\sin(\alpha)$  ist die  $y$ -Koordinate von  $P_\alpha$ . Kurz:

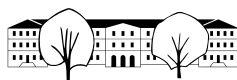
$$P_\alpha = (\cos(\alpha), \sin(\alpha))$$

### Definition 12.5 Tangens und $g_\alpha$

Für jeden Winkel  $\alpha$  ist  $\tan(\alpha)$  die **Steigung** der Geraden  $g_\alpha = OP_\alpha$ .

✂ **Aufgabe 12.1** Beschriften Sie die folgende Skizze so, dass die obigen Definitionen möglichst gut illustriert werden!



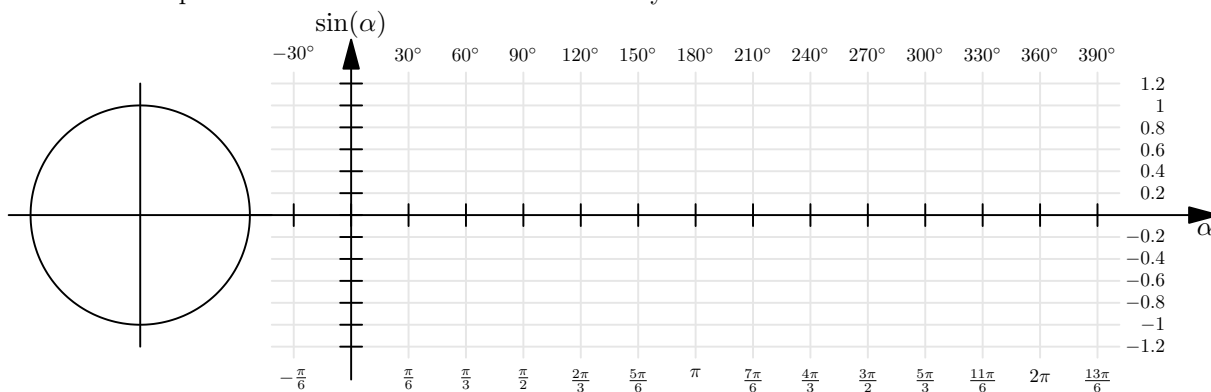


✂ **Aufgabe 12.2** Zeichnen Sie einen Einheitskreis mit 8 cm Durchmesser. Schalten Sie Ihren Taschenrechner ins Gradmass um. Drücken Sie Home, 5, 2 und stellen dann die Option «Winkel» auf Grad um. Speichern Sie die Einstellungen als Standard.

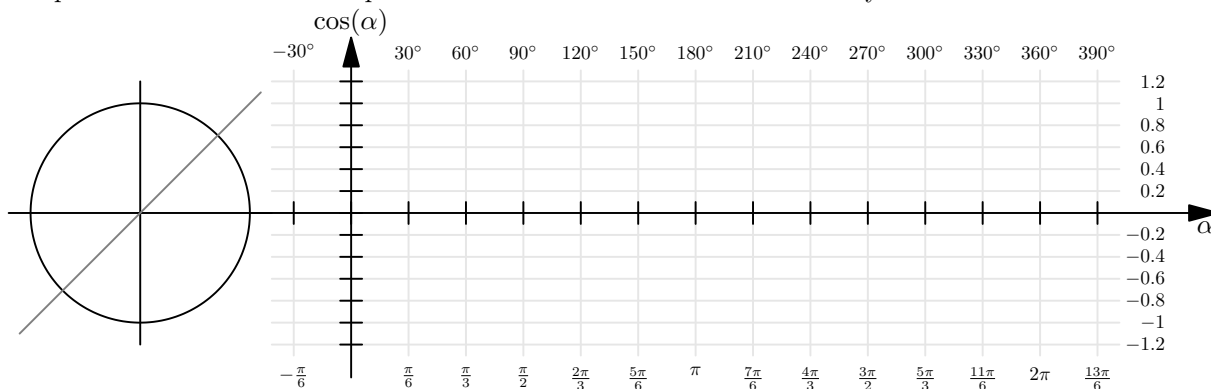
- a) Zeichnen Sie die Punkte  $P_{55^\circ}$ ,  $P_{290^\circ}$ ,  $P_{-190^\circ}$  und  $P_{380^\circ}$  ein. Bestimmen Sie dann durch Messen die Cosinus- und Sinuswerte dieser Winkel. *Achtung: Es muss in Einheiten, nicht in cm gemessen werden!*
- b) Berechnen Sie mit dem Taschenrechner die Cosinus- und Sinuswerte der Winkel aus Teilaufgabe a). *Achtung: Der Taschenrechner muss im Gradmass (DEG) rechnen, und nicht im Bogenmass (RAD).*
- c) Bestimmen Sie, ebenfalls durch Messen, die Tangenswerte der Winkel aus Teilaufgabe a) und überprüfen Sie Ihre Messungen mit dem Taschenrechner.
- d) Für welche Winkel  $\alpha$  (es gibt unendlich viele!) gilt  $\sin(\alpha) = 0.8$ ? Bestimmen Sie die Antwort durch Konstruieren und Abmessen. Beschreiben Sie alle Lösungen (unendlich viele). Lösen Sie die Gleichung mit dem TR und interpretieren Sie das Resultat.
- e) Für welche Winkel  $\alpha$  gilt  $\cos(\alpha) = -0.2$ ? Bestimmen Sie die Antwort durch Konstruieren und Abmessen. Beschreiben Sie alle Lösungen (unendlich viele). Lösen Sie die Gleichung mit dem TR und interpretieren Sie das Resultat.
- f) Für welche Winkel  $\alpha$  (es gibt unendlich viele!) gilt  $\tan(\alpha) = -2$ ? Bestimmen Sie die Antwort durch Konstruieren und Abmessen. Beschreiben Sie alle Lösungen (unendlich viele). Lösen Sie die Gleichung mit dem TR und interpretieren Sie das Resultat.
- g) Für welche Winkel  $\alpha$  gilt  $\sin(\alpha) = 4.2$ ?
- h) Für welche Winkel  $\alpha$  gilt  $\cos(\alpha) = -2$ ?

✂ **Aufgabe 12.3** Ziel dieser Aufgabe ist, die Graphen der Sinus-, Kosinus- und Tangensfunktion in die vorgegebenen Koordinatensysteme einzuzichnen.

- a) Graph der Sinusfunktion: Markieren Sie für alle Winkel  $\alpha$  zwischen  $-30^\circ$  und  $390^\circ$ , die Vielfache von  $15^\circ$  sind, den Punkt  $P_\alpha$  im Kreis links und nutzen Sie jeweils eine horizontale Linie, um den entsprechenden Punkt des Graphen der Sinusfunktion im Koordinatensystem rechts einzuzichnen.

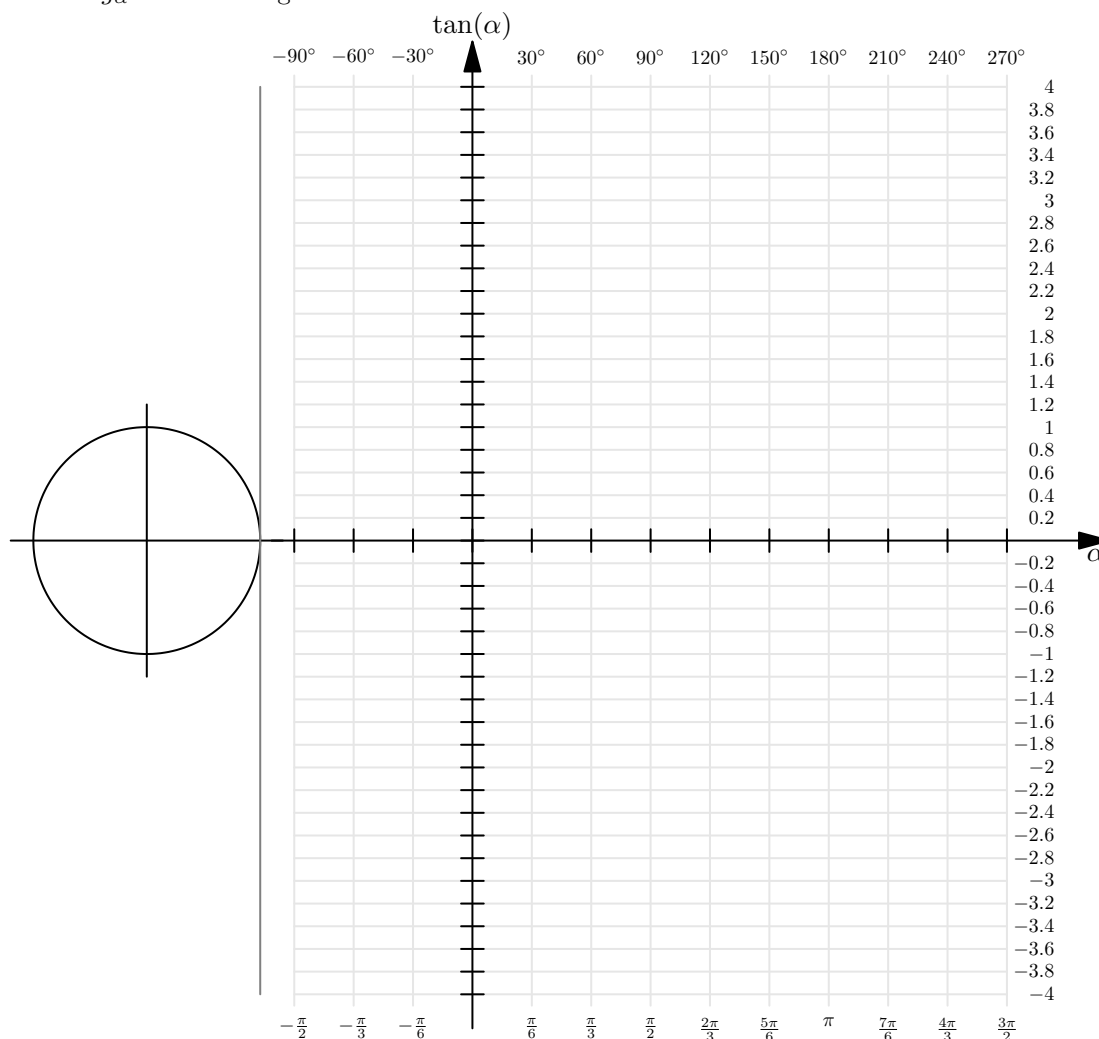


- b) Graph der Kosinusfunktion: Markieren Sie für alle Winkel  $\alpha$  zwischen  $-30^\circ$  und  $390^\circ$ , die Vielfache von  $15^\circ$  sind, den Punkt  $P_\alpha$  im Kreis links und nutzen Sie die hellgraue erste Winkelhalbierende, um den entsprechenden Punkt des Graphen der Kosinusfunktion im Koordinatensystem rechts einzuzichnen.





- c) Skizzieren Sie den Graphen der Tangensfunktion! Vorgehen: Markieren Sie für alle Winkel  $\alpha$  zwischen  $-90^\circ$  und  $270^\circ$ , die Vielfache von  $15^\circ$  sind, den Punkt  $P_\alpha$  im Kreis. Begründen Sie genau, was die Steigung der Gerade  $g_\alpha$  mit der Tangente  $x = 1$  an den Einheitskreis zu tun hat.



✂ **Aufgabe 12.4** Bestimmen Sie mit einem Tabellenkalkulationsprogramm oder direkt mit Python die Koordinaten eines regelmässigen 5-Ecks und stellen Sie es graphisch dar!

✂ **Aufgabe 12.5** Für die Herleitung folgender trigonometrischer Identitäten ist eine gute Skizze nötig. Zeigen Sie, dass für beliebige Winkel  $\alpha$  gilt:

- a)  $\tan(\alpha) = \frac{\sin(\alpha)}{\cos(\alpha)}$ ,
- b)  $(\sin(\alpha))^2 + (\cos(\alpha))^2 = 1$ ,
- c)  $\sin(-\alpha) = -\sin(\alpha)$ ,
- d)  $\cos(-\alpha) = \cos(\alpha)$ .

✂ **Aufgabe 12.6** Bestimmen Sie die **exakten** Cosinus-, Sinus- und Tangenswerte der Winkel  $30^\circ$  und  $45^\circ$ . Machen Sie dazu eine Skizze im Einheitskreis und suchen Sie spezielle rechtwinklige Dreiecke. Erstellen Sie dann eine Tabelle mit allen trigonometrischen Funktionswerten aller Vielfachen von  $30^\circ$  und  $45^\circ$  zwischen  $0^\circ$  und  $360^\circ$ .

### 12.1 Bogenmass

Es stellt sich heraus, dass es mathematisch am «zweckmässigsten» ist, einen Winkel durch die Länge des entsprechenden Bogens auf dem Einheitskreis anzugeben.



**Definition 12.6** Bogenmass

Ein Winkel  $\alpha$  im Bogenmass ist die Länge des entsprechenden Bogens auf dem Einheitskreis von  $(1, 0)$  bis  $P_\alpha$  (in positivem Drehsinn), gemessen in Vielfachen der Einheitslänge.

Ein Winkel im Bogenmass ist also eine Zahl (ohne Masseinheit).

Gelegentlich schreibt man die Einheit **rad** (gelesen «Radiant») dazu, um eine solche Zahl als Winkel im Bogenmass zu kennzeichnen.

Der Name *Radiant* kommt daher, dass die Länge des Kreisbogens in Vielfachen des *Radius* angegeben wird.

✂ **Aufgabe 12.7** Vervollständigen Sie folgende Tabelle mit exakten Werten und bestimmen Sie die beiden Umrechnungsfunktionen  $g(r)$  von Radiant in Grad und  $r(g)$  von Grad in Radiant!

<b>Grad</b>	$0^\circ$	$360^\circ$	$180^\circ$	$90^\circ$	$-90^\circ$			$225^\circ$	$g(r) =$
<b>Radiant</b>	$0$					$\frac{\pi}{4}$	$\frac{2\pi}{3}$		$r(g) =$

### 12.2 Trigonometrie im rechtwinkligen Dreieck

Der Begriff «Trigonometrie» kommt aus dem Griechischen und bedeutet Dreiecksvermessung ( $\tau\rho\rho\gamma\omega\nu\nu\omicron\nu$  *trígonon* «Dreieck» und  $\mu\epsilon\tau\rho\nu$  *métron* «Mass»).<sup>1</sup>

✂ **Aufgabe 12.8** In dieser Aufgabe sind zwei Skizzen nebeneinander zu erstellen, ein Dreieck und ein Einheitskreis.

- Zeichnen Sie ein rechtwinkliges Dreieck  $\triangle GHA$  mit Winkel  $\gamma \approx 25^\circ$  bei  $G$  und rechtem Winkel bei  $H$ . Beschriften Sie den Winkel  $\gamma$  und die Seiten  $g, h,$  und  $a$ .
- Zeichnen Sie daneben einen Einheitskreis mit dem Punkt  $P_\gamma$  (gleicher Winkel  $\gamma$  wie in Ihrem Dreieck).
- Zeichnen Sie das Stützdreieck unter der Strecke  $OP_\gamma$ .
- Begründen Sie, warum das Stützdreieck und Ihr Dreieck  $\triangle GHA$  ähnlich sind.
- Beschriften Sie die Längen der Stützdreiecksseiten.
- Geben Sie mit Hilfe des Stützdreiecks die drei Seitenverhältnisse  $g : h, a : h$  und  $g : a$  an.

**Merke** Sinus und Cosinus im rechtwinkligen Dreieck

Sei  $\delta$  ein Winkel ( $\neq 90^\circ$ ) in einem rechtwinkligen Dreieck. Die diesem Winkel *anliegende* Kathete heisst **Ankathete**, die dem Winkel *gegenüberliegende* Kathete heisst **Gegenkathete**. Es gilt:

$\sin(\delta) =$   $\cos(\delta) =$   $\tan(\delta) =$

Dazu gibt es folgende Eselsbrücke<sup>2</sup>: «**GAGA HühnerHof AG**», der in folgender Tabelle zusammengefasst wird:

sin	cos	tan	cot
G	A	G	A
H	H	A	G

Zum Beispiel ist der Cosinus der Quotient **Ankathete** durch **Hypotenuse**. Hinweis: cot steht für Cotangens und ist für fast alle Winkel einfach der Kehrwert des Tangens.

<sup>1</sup><https://de.wikipedia.org/wiki/Trigonometrie>

<sup>2</sup><https://de.wikipedia.org/wiki/Merkspruch>

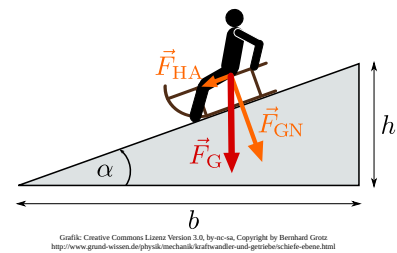


✂ **Aufgabe 12.9** Von einem rechtwinkligen Dreieck sind in den folgenden Teilaufgaben jeweils ein Winkel und eine Seite bekannt. Berechnen Sie die fehlenden Seiten mit dem TR. Geben Sie die Resultate auf 4 signifikante Stellen gerundet an (d.h. egal, wo das Komma ist, es stehen vier Stellen da (führende Nullen nicht mitgezählt)). Überprüfen Sie Ihre Resultate mit einer kleinen Handskizze auf ihre Plausibilität.

- a)  $\alpha = 20^\circ, a = 4$       b)  $\beta = 50^\circ, c = 3$       c)  $\alpha = 35^\circ, b = 5$       d)  $\beta = 55^\circ, a = 2$

✂ **Aufgabe 12.10**

- a) Aktuelle Gleitschirme haben einen Gleitwinkel von etwa  $7^\circ$  (Winkel zwischen Flugrichtung und der Horizontalen). Normalerweise wird aber die Gleitzahl angegeben, das ist die horizontale Distanz in m, die pro Höhenmeter zurückgelegt wird. Berechnen Sie die Gleitzahl. Welcher trigonometrischen Funktion des Gleitwinkels entspricht die Gleitzahl?
- b) Sie stehen in der Wüste von Dubai und der 830 m hohe Burj Khalifa erscheint unter einem Winkel von  $20^\circ$ . Wie weit vom Turm sind Sie entfernt?
- c) In der Skizze rechts ist  $\vec{F}_G$  die Gewichtskraft, die auf die Person inklusive Schlitten wirkt. Mit den beiden anderen Kräften  $\vec{F}_{GN}$  (Komponente der Gewichtskraft senkrecht (normal) zum Boden) und  $\vec{F}_{HA}$  (Hangabtriebskraft, beschleunigt Schlitten samt Person parallel zum Hang) kann ein rechtwinkliges Dreieck gebildet werden. Für eine Hangneigung von  $\alpha = 10^\circ$ : Mit viel Prozent der Gewichtskraft wird die Person mit Schlitten den Hang hinunter gezogen?



### 12.3 Arcus-Funktionen

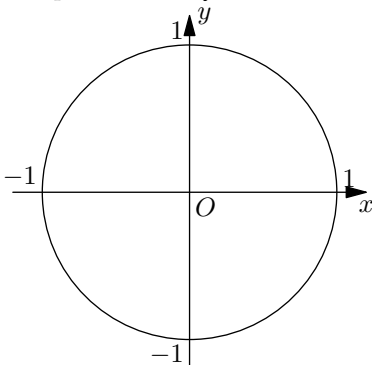
Die trigonometrischen Funktionen ordnen Winkeln Zahlen zu. Nun wollen wir umgekehrt wissen, welcher Winkel zu einer gegebenen Zahl gehört.

Die trigonometrischen Funktionen besitzen sogenannte **Umkehrfunktionen**, die z.B. aus Sinuswerten wieder Winkel berechnen. Der Name *Arcus-Funktionen* leitet sich davon ab, dass diese Funktionen (in Radiant gemessen) *Bogenlängen* liefern (lat. *arcus* für *Bogen*).

Das Problem ist, dass jeder Sinuswert von unendlich vielen Winkeln produziert wird, die normalerweise genau zwei Punkten auf dem Einheitskreis entsprechen (= den Schnittpunkten einer Horizontalen mit dem Einheitskreis).

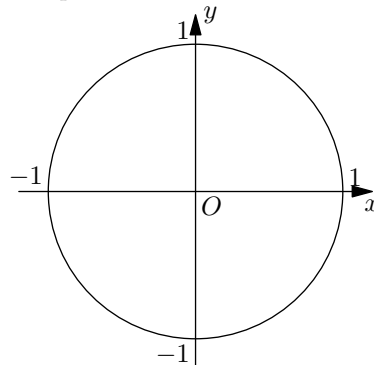
Da eine Funktion für jedes Argument nur genau einen Wert liefert, stellt sich Frage: Welchen dieser Punkte wählt man für die Berechnung der Umkehrfunktion und wie wählt man den Winkel?

**Arcus-Sinus**  
 $y \in [-1, 1]$   
 Mathe:  $\arcsin(y) = \sin^{-1}(y)$   
 Computer: `asin(y)`



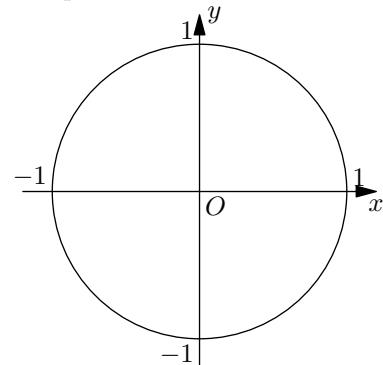
Liefert Winkel im Intervall:

**Arcus-Cosinus**  
 $x \in [-1, 1]$   
 Mathe:  $\arccos(x) = \cos^{-1}(x)$   
 Computer: `acos(x)`



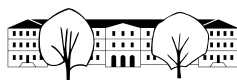
Liefert Winkel im Intervall:

**Arcus-Tangens**  
 $m \in \mathbb{R}$   
 Mathe:  $\arctan(m) = \tan^{-1}(m)$   
 Computer: `atan(m)`



Liefert Winkel im Intervall:

*Hinweis:* Sind Winkel gesucht, die stumpf sein können, empfiehlt es sich, falls möglich, `arccos` anstatt `arcsin` zu benutzen. So muss der Winkel am Schluss nicht noch umgerechnet werden.



✂ **Aufgabe 12.11** Berechnen Sie ohne TR mit Hilfe einer Skizze des Einheitskreises:

- |                  |   |                                       |                        |
|------------------|---|---------------------------------------|------------------------|
| a) $\arcsin(0)$  | b) $\arccos(0)$                             | c) $\arctan(0)$                       | d) $\arcsin(1)$        |
| e) $\arccos(1)$  | f) $\arctan(1)$                             | g) $\arcsin(-1)$                      | h) $\arccos(-1)$       |
| i) $\arctan(-1)$ | j) $\arcsin\left(\frac{\sqrt{2}}{2}\right)$ | k) $\arccos\left(-\frac{1}{2}\right)$ | l) $\arctan(\sqrt{3})$ |

✂ **Aufgabe 12.12** Zeichnen Sie (auf Papier) die Funktionsgraphen der Arcusfunktionen  $\arcsin(x)$ ,  $\arccos(x)$  und  $\arctan(x)$ . Wählen Sie jeweils sinnvolle Skalierungen für die Achsen.

✂ **Aufgabe 12.13**

- Moderne Segelflieger haben eine Gleitzahl (siehe Aufgabe 12.10 a)) von ca. 50. Berechnen Sie den entsprechenden Gleitwinkel. *Zusatzaufgabe: Wenn so ein Segelflieger das Matterhorn knapp überfliegt, könnte dieser ohne weitere Auf- und Abwinde im Aargau in Birrfeld landen?*
- Ein 8 m hoher senkrechter Strommast wirft einen 4 m langen Schatten. Wie gross ist der Einfallswinkel der Sonnenstrahlen? *Zusatzaufgabe: Zu welcher Jahres- und Tageszeit steht die Sonne in St. Gallen so hoch?*
- Am Anfang einer Passstrasse steht ein Schild mit der Aufschrift «20% Steigung». Was ist also der Winkel dieser Strasse gegenüber der Horizontalen (wenn man annimmt, dass die Steigung überall genau 20 % beträgt)?
- Eine Downhill-Mountainbikerin zeichnet ihre Talfahrt vom Maschgenkamm nach Quarten am Walensee sowohl mit ihrem Tachometer als auch mit ihrem GPS auf. Nach 8.271 km auf dem Tachometer zeigt das GPS nur 8.115 km an. Sie setzt beide Geräte wieder auf Null und radelt nach Sargans. Dort zeigen beide Geräte bis auf 2 m die gleiche Distanz (19.2 km) an.  
Was hat das GPS gemessen und wie steil (Angabe als Winkel und in %) war die Abfahrt im Durchschnitt?

## 12.4 Harmonische Schwingungen

Die Bewegung eines Massestückes, das an einer metallischen Springfeder aufgehängt schwingt, kann in guter Näherung als *harmonische Schwingung* beschrieben werden.

Eine harmonische Schwingung kann durch eine gestreckte und verschobene Sinusfunktion beschrieben werden. Am einfachsten stellt man sich dabei einen Punkt vor, der eine gleichförmige Kreisbewegung ausführt (d.h. seine (Dreh-)Geschwindigkeit ist konstant). Dann beschreibt die  $y$ -Koordinate des Punktes eine harmonische Schwingung.

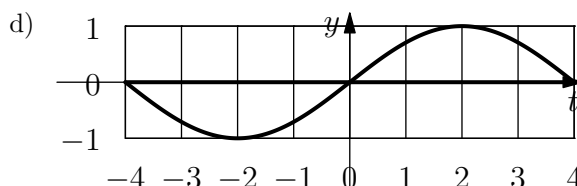
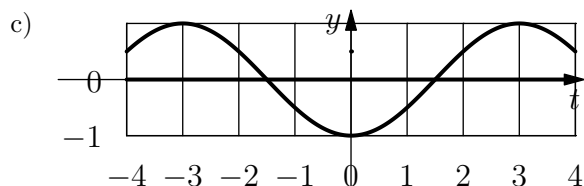
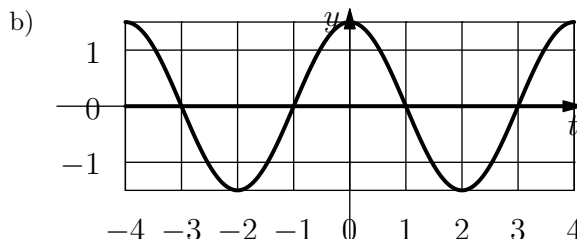
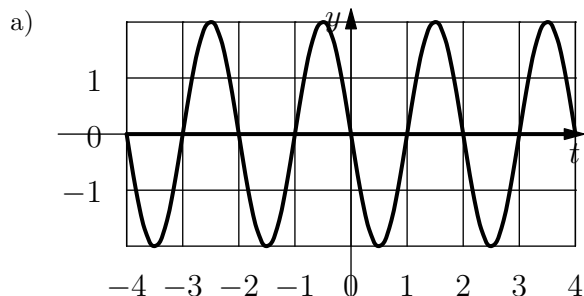
Eine Schwingung wird durch 3 Parameter charakterisiert:

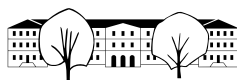
**Frequenz:** Anzahl der Schwingungen pro Zeiteinheit (d.h. Anzahl vollständiger Umdrehungen pro Zeiteinheit).

**Amplitude:** Höhe der Ausschläge über der Mittellinie (d.h. Radius des Kreises).

**Phase:** Verschiebung in der Zeit (d.h. Startposition als Winkel zur Zeit 0).

✂ **Aufgabe 12.14** Lesen Sie von folgenden Sinus-Schwingungen die Frequenz, Amplitude und Phase ab:





**Merke** Harmonische Schwingung (FMP S. 88)

Eine harmonische Schwingung mit **Frequenz**  $f$ , **Amplitude**  $\hat{y}$  und **Phase**  $\varphi_0$  wird durch die Funktion

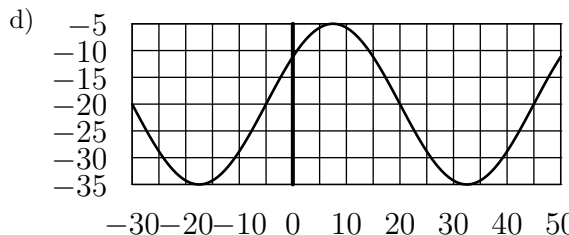
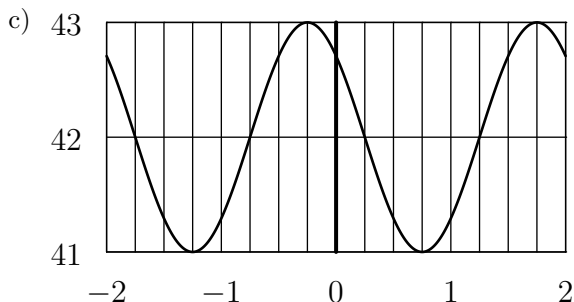
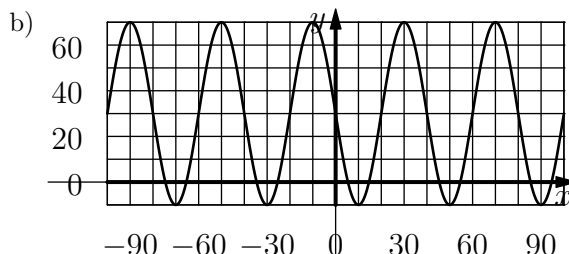
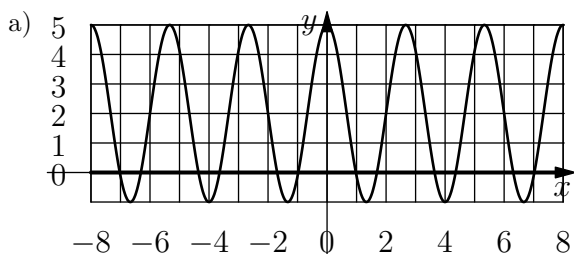
$$y(t) = \hat{y} \cdot \sin(t \cdot f \cdot 360^\circ + \varphi_0)$$

beschrieben, wobei  $t$  die Zeit darstellt.

Diese Beschreibung umfasst nur Schwingungen um den Nullpunkt. Oft betrachtet man aber Schwingungen, die um einen anderen Wert schwingen (z.B. die Tageslänge im Jahr, Wasserstände bei Gezeiten, etc.). Der Mittelwert (quasi der Nullpunkt) ist dann noch zur Funktionsgleichung zu addieren.

✂ **Aufgabe 12.15** Bestimmen Sie die Funktionsgleichungen der Graphen in Aufgabe 12.14.

✂ **Aufgabe 12.16** Unten sind die Graphen von harmonischen Schwingungen gegeben. Bestimmen Sie jeweils die zugehörige Funktionsgleichung. Überprüfen Sie Ihr Ergebnis, indem Sie den Graphen Ihrer Funktionsgleichung mit dem Taschenrechner (oder mit GeoGebra) wie unten beschrieben zeichnen.



Graphen zeichnen auf dem TR:

- HOME, B (Graph-Modus)
- Überprüfen Sie, dass der Rechner auf Grad (GRAD oder engl. DEG) eingestellt ist. Wenn nicht: Menu, 8 und Grafik-Winkel auf Grad (degrees) festlegen und als Standard speichern.
- Funktionen eingeben: Menu, 3, 1 (dann eventuell mit Pfeiltasten Funktion auswählen), Funktion mit  $x$  als Variable eingeben.
- Eventuell den Zoom anpassen mit Menu, 4, A (oder manuell).

✂ **Aufgabe 12.17**

- a) In der Schweiz und Italien wird der Kammerton ( $a^1$ , eingestrichenes A) normalerweise auf 442 Hz gestimmt (442 Schwingungen pro Sekunde; Hz ist das Einheitenzeichen für *Hertz*, die Einheit der Frequenz, die als «1 durch Sekunde» definiert ist:  $\text{Hz} = \frac{1}{\text{s}}$ ). Um mit dem Computer einen Ton dieser Frequenz als harmonische Schwingung zu erzeugen, wird die Auslenkung eines Lautsprechers durch Werte (Sampling-Werte oder Abtast-Werte) zwischen  $-30'000$  und  $30'000$  gesteuert. Diese Werte werden 44100 mal pro Sekunde erzeugt (CD-Sampling Rate). Bestimmen Sie erstens die Funktionsgleichung, um aus der Zeit in Sekunden den Abtastwert zu ermitteln. Bestimmen Sie zweitens die Funktionsgleichung, die aus der Nummer des Abtastwerts den Abtastwert berechnet (Abtastwert 0 entspricht Zeit 0 s, Abtastwert 44100 entspricht 1 s, etc.).



- b) Eine Puppe wird an einer Stahlfeder aufgehängt und in Schwingung versetzt, indem sie nach unten gezogen und zum Zeitpunkt  $t = 0$  losgelassen wird. Die Puppe pendelt in 2 s auf einer Höhe von insgesamt 20 cm auf und ab. Bestimmen Sie die Funktionsgleichung, die die Position (Höhe) der Puppe beschreibt. Finden Sie zusätzlich heraus, wie schnell sich die Puppe im obersten und untersten Punkt und im Mittelpunkt dazwischen bewegt (in m/s).
- c) St. Gallen befindet sich auf  $47.42^\circ$  nördlicher Breite. Die Erdachse ist um  $23.44^\circ$  gegenüber der Ekliptik (Umlaufebene der Erde um die Sonne) geneigt. Berechnen Sie den höchsten und tiefsten Sonnenstand, wenn die Sonne im Zenit steht (höchste Position am Tag). In guter Näherung kann angenommen werden, dass der Sonnenhöchststandswinkel über das Jahr durch eine harmonische Schwingung beschrieben werden kann. Bestimmen Sie die Funktionsgleichung und ermitteln Sie, zu welchen Daten die Sonne einen Höchststand von  $60^\circ$  hat.
- d) In guter Näherung kann angenommen werden, dass die Tageslänge (bzw. deren Abweichung vom Mittelwert) über das Jahr mit einer harmonischen Schwingung beschrieben werden kann. Die Tageslänge variiert in St. Gallen zwischen ca. 08 h 25 min am 21. Dezember und 15 h 55 min am 21. Juni. Bestimmen Sie die Funktionsgleichung, die aus der Nummer des Tages (1. Januar = Tag 1) die Tageslänge berechnet. Berechnen Sie dann damit die Tageslänge an ihrem Geburtstag und vergleichen Sie Ihr Resultat mit anderen Quellen.

## 12.5 Überlagerung zweier Schwingungen

Bei vielen Phänomenen, die mit harmonischen Schwingungen beschrieben (bzw. angenähert) werden, können diese Schwingungen auch in Überlagerung vorkommen (z.B. zwei Töne gleichzeitig, Wasserwellen, die sich überlagern). Den Spezialfall zweier Schwingungen mit gleicher Frequenz möchten wir hier untersuchen.

✳ **Aufgabe 12.18** Arbeiten Sie in 2er- oder 3er-Gruppen zusammen!

- a) Untersuchen Sie die Summe  $h(x) = f(x) + g(x)$  mit  $f(x) = \sin(x)$  und  $g(x) = \sin(\varphi + x)$ , wobei  $\varphi$  je nach Gruppe ein anderes Vielfaches von  $45^\circ$  sein soll.
- b) Fassen Sie die beiden Schwingungen als  $y$ -Koordinaten von Punkten  $P_f$  und  $P_g$  auf, die sich auf einem Kreis bewegen. Wie hängen die beiden Kreisbewegungen zusammen?
- c) Anstatt nur die Summe der  $y$ -Koordinaten zu betrachten, betrachten Sie den Punkt  $P_h$ , der als Koordinaten die Summe der Koordinaten von  $P_f$  und  $P_g$  hat. Was für eine Bewegung führt der Punkt  $P_h$  aus?
- d) Berechnen Sie aus  $\varphi$  (Phase von  $g$ ) die Phase von  $h$ .
- e) Berechnen Sie aus  $\varphi$  (Phase von  $g$ ) die Amplitude von  $h$ .
- f) Für welche Winkel  $\varphi$  ist die Amplitude von  $h$  gleich gross wie die von  $f$  und  $g$ ?

✳ **Aufgabe 12.19**

- a) Die Stromversorgung in Europa basiert auf Wechselstrom mit einer Frequenz von 50 Hz und einer Amplitude von ca. 310 V (daraus resultiert ein «Gleichstromäquivalent» (auch «Effektivwert» genannt) von 220 V, das normalerweise angegeben wird). Dieser wird in 3 sogenannten Phasen geliefert, deren Namen von der Phasenverschiebung um je  $120^\circ$  herrührt. Normalerweise wird eine Phase und ein Nulleiter (letztlich mit der Erde verbunden) verwendet, um 220 V Geräte zu betreiben. Grössere Geräte wie z.B. Kochherde werden an zwei Phasen angeschlossen. Relevant ist dann die Differenz der Spannungen dieser zwei Phasen. Bestimmen Sie als erstes die Funktion, die die Spannung in der Zeit (in Sekunden) für eine Phase beschreibt.
- Wie viel mal grösser ist die Amplitude wenn man zwei Phasen kombiniert (d.h. die Differenz bildet)? Auf welches «Gleichstromäquivalent» kommt man dann?

## 12.6 Schwebungen

Überlagert (d.h. addiert) man zwei Schwingungen mit fast gleicher Frequenz und Amplitude, entstehen Schwebungen. Im Falle von Tönen nimmt man diese als Lautstärkeschwankungen wahr. Die Frequenz dieser Schwankungen beträgt normalerweise einige Hz. Dieser Effekt tritt auch ein, wenn das Verhältnis der Frequenzen fast eine Bruchzahl mit kleinem Nenner ist, was zum Stimmen von Saiteninstrumenten genutzt wird.





✂ **Aufgabe 12.20** Erklären Sie den Effekt der Schwebung mit Hilfe zweier Kreisbewegungen mit annähernd gleicher Geschwindigkeit.

✂ **Aufgabe 12.21** Hören Sie sich die Audiodateien auf dem Wiki an (Überlagerungen zweier Sinusschwingungen). Beachten Sie, dass man die Schwebungen auch hört, wenn man Kopfhörer trägt und jedes Ohr nur einen Ton hört! D.h. die Schwebung wird erst im Hirn erzeugt, ohne dass diese physikalisch stattgefunden hat!

✂ **Aufgabe 12.22** Zwei Lautsprecher befinden sich an den Punkten  $P = (0, 0)$  und  $Q = (5, 0)$  (Einheit 1 m). Auf diesen wird der exakt gleiche Sinuston von 440 Hz gespielt. Am Ort  $(x, y)$  steht ein Mikrofon, das die Überlagerung der beiden Töne aufzeichnet. Die beiden ankommenden Töne haben eine Phasenverschiebung. Erklären Sie zuerst warum und berechnen Sie diese dann. Auf welcher Figur liegen die Orte, wo (theoretisch) nichts zu hören ist?

## 12.7 Repetitionsaufgaben

✂ **Aufgabe 12.23** Alle berechneten Resultate sind auf 4 signifikante Stellen zu runden.

- Mit Hilfe einer Handskizze, ohne Taschenrechner, schätzen Sie die Sinus-, Cosinus- und Tangenswertes des Winkels  $290^\circ$ .
- Mit Hilfe einer Handskizze, ohne Taschenrechner, schätzen Sie  $\arccos(-0.2)$ ,  $\arcsin(-0.2)$  und  $\arctan(-2)$ .
- Mit Hilfe einer Handskizze und einigen Stichwörtern, zeigen Sie, welche der folgenden Gleichungen richtig und welche falsch sind:

$$\sin(\alpha) = \cos(\alpha + 90^\circ) \quad \sin(\alpha + 90^\circ) = \cos(\alpha) \quad \tan(-\alpha) = \tan(\alpha) \quad \tan(-\alpha) = -\tan(\alpha)$$

- Eine Rampe für Rollstuhlfahrer sollte nicht mehr als  $3.5^\circ$  geneigt sein. Wie lange wird eine solche Rampe, um einen Höhenunterschied von 50 cm zu überwinden?
- Wie gross ist der Diagonalschnittwinkel in einem Rechteck, das doppelt so lang wie breit ist?
- Von einem unbekanntem Winkel  $\alpha$  wissen wir, dass  $\tan(\alpha) = 2$ . Welche Werte kommen für  $\sin(\alpha)$  und  $\cos(\alpha)$  in Frage?
- Von einem Rhombus (gleichseitiges Parallelogramm) kennt man die Seitenlänge  $s = 10$  und die Diagonallänge  $e = 15$ . Berechnen Sie die Länge der anderen Diagonalen sowie die Grössen der Innenwinkel.
- Wie gross ist der Winkel zwischen einer Würfelfläche und einer Körperdiagonalen?
- METEOSAT-9, ein geostationärer Satellit, steht knapp 36'000 km über dem Äquator. Dieser Satellit hat fast die gleiche Länge wie St. Gallen, nämlich  $9.4^\circ$  Ost. Wie hoch (als Winkel angegeben) über dem Horizont steht der Satellit, wenn man weiss, dass St. Gallen auf  $47.5^\circ$  nördlicher Breite liegt und der Erdradius ca. 6370 km beträgt?

✂ **Aufgabe 12.24**

- Bestimmen Sie Amplitude, Frequenz und Phase folgender Funktion:  $f(x) = 2 \sin(45^\circ + x \cdot 180^\circ)$ . Skizzieren Sie den Graphen dieser Funktion.
- Was passiert mit dem Graphen einer harmonischen Schwingung, wenn man entweder (1) die Phase um  $90^\circ$  erhöht, oder (2) die Amplitude halbiert, oder (3) die Frequenz verdoppelt?
- Die Sonnenstandshöhe (d.h. der Winkel zwischen Horizont und Sonne) über 24 Stunden kann angenähert durch eine harmonische Schwingung beschrieben werden. Am Sonntag, 11. Juni 2017 geht die Sonne in St. Gallen um 5:26 auf und um 21:17 unter und erreicht einen Höchststand von ca.  $65^\circ$  und einen Tiefststand von ca.  $-20^\circ$ . Bestimmen Sie die Funktionsgleichung der harmonischen Schwingung, die den Sonnenstand beschreibt. Berechnen Sie dann, wie hoch die Sonne um 9:55 steht.
- Die Position eines Uhrenpendels kann in guter Näherung mit einer harmonischen Schwingung beschrieben werden. Wie schnell bewegt sich die Spitze eines 1 m langen Pendels, das mit einer Frequenz von 1 Hz schwingt und einen Ausschlag von 5cm hat?



## 12.8 Lösungen

Hinweise zu den Symbolen:

✂ Diese Aufgaben könnten (mit kleinen Anpassungen) an einer Prüfung vorkommen. Für die Prüfungsvorbereitung gilt: "If you want to nail it, you'll need it".

✳ Diese Aufgaben sind wichtig, um das Verständnis des Prüfungsstoffs zu vertiefen. Die Aufgaben sind in der Form aber eher nicht geeignet für eine Prüfung (zu grosser Umfang, nötige «Tricks», zu offene Aufgabenstellung, etc.). **Teile solcher Aufgaben können aber durchaus in einer Prüfung vorkommen!**

✂ Diese Aufgaben sind dazu da, über den Tellerrand hinaus zu schauen und oder die Theorie in einen grösseren Kontext zu stellen.

### ✂ Lösung zu Aufgabe 12.2 ex-trigo-werte-messen

a) und b):  $\cos(55^\circ) \approx 0.58$ ,  $\sin(55^\circ) \approx 0.82$ ,  $\cos(290^\circ) \approx 0.32$ ,  $\sin(290^\circ) \approx -0.95$ ,  $\cos(-190^\circ) \approx -0.99$ ,  $\sin(-190^\circ) \approx 0.16$ ,  $\cos(380^\circ) \approx 0.95$ ,  $\sin(380^\circ) \approx 0.31$ .

c)  $\tan(55^\circ) \approx 1.42$ ,  $\tan(290^\circ) \approx -2.95$ ,  $\tan(-190^\circ) \approx -0.16$ ,  $\tan(380^\circ) \approx 0.33$ .

d) Es gibt zwei Punkte auf dem Einheitskreis mit  $y$ -Koordinate 0.8. Die entsprechenden Winkel sind ungefähr  $53^\circ$  und  $127^\circ$ . Zu diesen Winkeln kann beliebig vielmal  $360^\circ$  addiert oder davon subtrahiert werden. Sei  $k \in \mathbb{Z}$  die Anzahl Vielfache von  $360^\circ$ . Die Lösungen sind also

$$53^\circ + k \cdot 360^\circ \quad \text{oder} \quad 127^\circ + k \cdot 360^\circ \quad \text{für } k \in \mathbb{Z}$$

Auf dem Taschenrechner löst man  $\text{solve}(\sin(x)=0.8, x)$  und erhält  $x = 360 \cdot (n_1 + 0.147581)$  or  $x = 360 \cdot (n_1 + 0.352416)$ . Ausmultipliziert erhält man das obige Resultat.

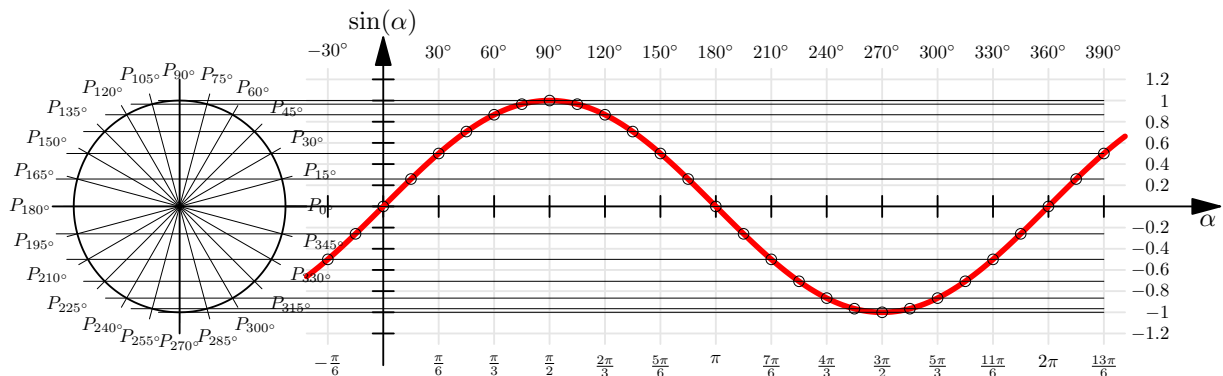
e)  $\alpha \approx 101.5 + k \cdot 360^\circ$  oder  $\alpha \approx 258.5 + k \cdot 360^\circ$  mit  $k \in \mathbb{Z}$ .

f)  $\alpha \approx 116.6^\circ + k \cdot 180^\circ$ . (Alle Winkel «mit Steigung»  $-2$ ).

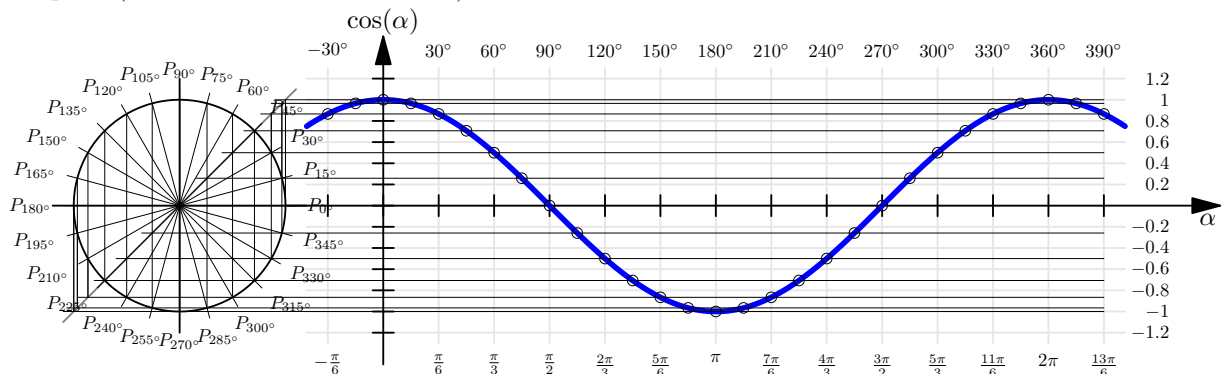
g) und h) Gar keine. Die Cosinus- und Sinusfunktion liefern nur Werte zwischen  $-1$  und  $+1$  (inklusive).

### ✂ Lösung zu Aufgabe 12.3 ex-graphen-sin-cos-tan

a) Sinus: Die horizontalen Linien verbinden jeweils  $P_\alpha$  mit dem entsprechenden Punkt des Graphen.

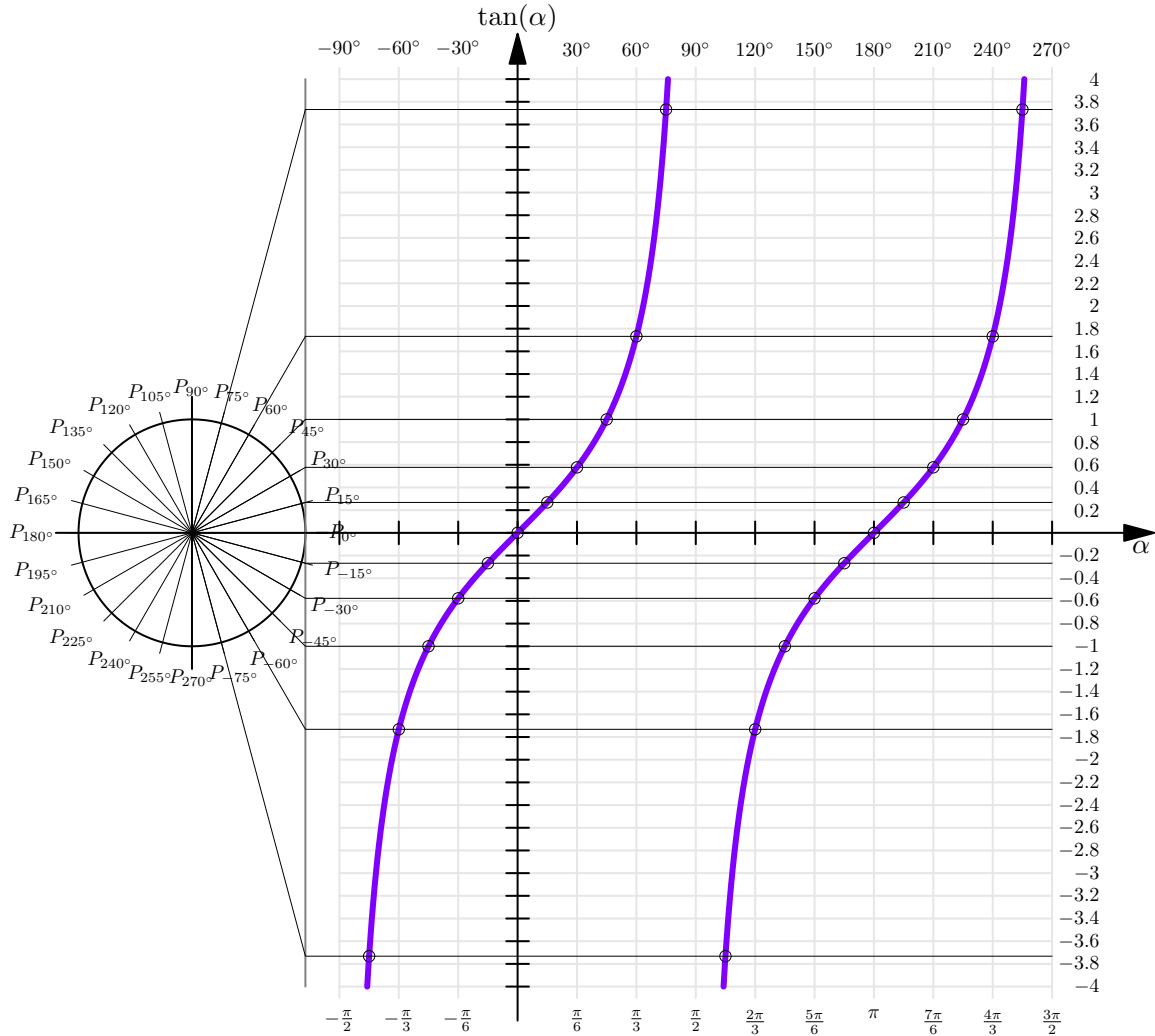


b) Kosinus: Die hellgraue Winkelhablierende wird wie folgt genutzt: Gehe von  $P_\alpha$  vertikal bis auf die hellgraue Winkelhablierende und dann horizontal nach rechts bis zum dem zugehörigen Punkt  $(\alpha, \cos(\alpha))$  auf dem Graphen (dessen « $x$ -Koordinate»  $\alpha$  ist).

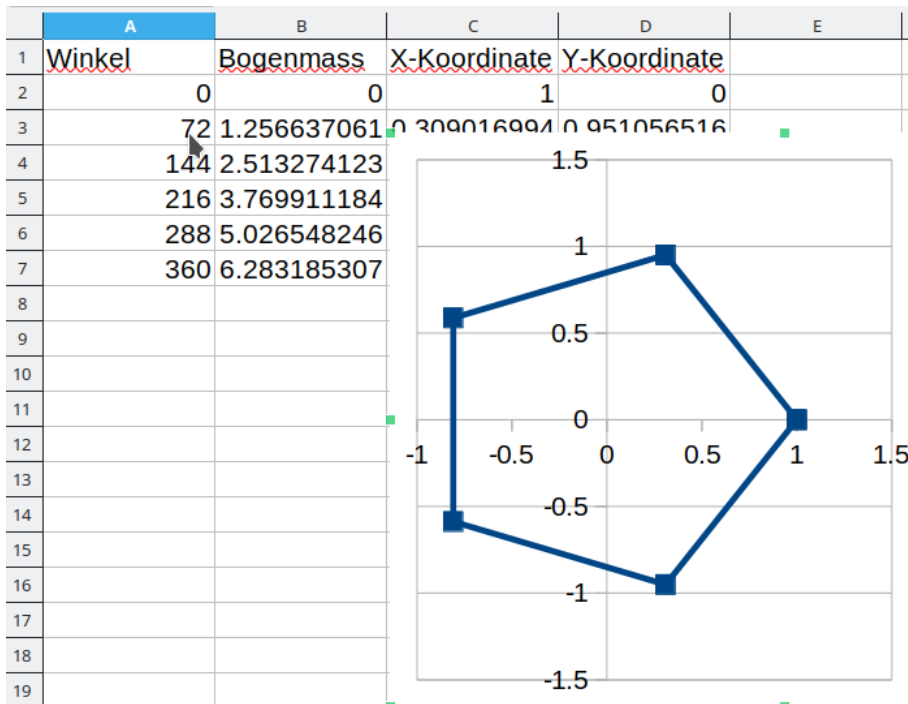




- c) Tangens: Die hellgraue Tangente wird wie folgt genutzt: Zeichne die Gerade vom Mittelpunkt des Kreises durch  $P_\alpha$  ein und gehe zu ihrem Schnittpunkt mit der hellgrauen Tangente. Die «y-Koordinate» dieses Schnittpunkts ist  $\tan(\alpha)$  (Steigungsdreieck mit  $\Delta x = 1$ ). Nun geht man horizontal nach rechts bis zum dem zugehörigen Punkt  $(\alpha, \tan(\alpha))$  auf dem Graphen (dessen «x-Koordinate»  $\alpha$  ist).  
 Beachte:  $\tan(\alpha)$  ist nicht definiert für  $\alpha = \dots, -90^\circ, 90^\circ, 270^\circ, \dots$



✂ Lösung zu Aufgabe 12.4 ex-fuenfeck-koordinaten



✂ Lösung zu Aufgabe 12.5 ex-identitaeten

- a) Man zeichnet das Steigungsdreieck für  $g_\alpha = OP_\alpha$  durch  $O$  und  $P_\alpha$ . Damit ist  $\Delta y = \sin(\alpha)$  und  $\Delta x = \cos(\alpha)$ . Die Steigung von  $g_\alpha$  ist damit  $\tan(\alpha) = \frac{\Delta y}{\Delta x} = \frac{\sin(\alpha)}{\cos(\alpha)}$
- b) Zeichnet man das Steigungsdreieck unter  $P_\alpha$  und dem Ursprung  $O$ , erhält man ein rechtwinkliges Dreieck mit Katheten  $\cos(\alpha)$  und  $\sin(\alpha)$  und Hypotenuse 1. Damit gilt der Satz von Pythagoras

$$(\sin(\alpha))^2 + (\cos(\alpha))^2 = 1^2$$

- c) Vorzeichenwechsel des Winkels bewirkt Spiegelung von  $P_\alpha$  an der  $x$ -Achse. Damit wechselt das Vorzeichen der  $y$ -Koordinate, d.h.  $\sin(-\alpha) = -\sin(\alpha)$ .
- d) Vorzeichenwechsel des Winkels bewirkt Spiegelung von  $P_\alpha$  an der  $x$ -Achse. Die  $x$ -Koordinate ändert sich dabei nicht, d.h.  $\cos(-\alpha) = \cos(\alpha)$ .

✂ Lösung zu Aufgabe 12.6 ex-spezielle-winkel

Für  $30^\circ$  ist das Stützdreieck ein  $30^\circ$ - $60^\circ$ - $90^\circ$  Dreieck und damit  $\sin(30^\circ) = \frac{1}{2}$ ,  $\cos(30^\circ) = \sqrt{\frac{3}{4}} = \frac{\sqrt{3}}{2}$  und  $\tan(30^\circ) = \frac{1}{\sqrt{3}} = \frac{\sqrt{3}}{3}$

Für  $45^\circ$  ist das Stützdreieck ein  $45^\circ$ - $45^\circ$ - $90^\circ$  Dreieck und damit  $\sin(45^\circ) = \sqrt{\frac{1}{2}} = \frac{1}{\sqrt{2}} = \frac{\sqrt{2}}{2}$ ,  $\cos(45^\circ) = \frac{\sqrt{2}}{2}$  und  $\tan(45^\circ) = 1$ .

	$0^\circ$	$30^\circ$	$45^\circ$	$60^\circ$	$90^\circ$	$120^\circ$	$135^\circ$	$150^\circ$	$180^\circ$	$210^\circ$	$225^\circ$	$240^\circ$	$270^\circ$	$300^\circ$	$315^\circ$	$330^\circ$
$\cos(\alpha)$	1	$\frac{\sqrt{3}}{2}$	$\frac{\sqrt{2}}{2}$	$\frac{1}{2}$	0	$-\frac{1}{2}$	$-\frac{\sqrt{2}}{2}$	$-\frac{\sqrt{3}}{2}$	-1	$-\frac{\sqrt{3}}{2}$	$-\frac{\sqrt{2}}{2}$	$-\frac{1}{2}$	0	$\frac{1}{2}$	$\frac{\sqrt{2}}{2}$	$\frac{\sqrt{3}}{2}$
$\sin(\alpha)$	0	$\frac{1}{2}$	$\frac{\sqrt{2}}{2}$	$\frac{\sqrt{3}}{2}$	1	$\frac{\sqrt{3}}{2}$	$\frac{\sqrt{2}}{2}$	$\frac{1}{2}$	0	$-\frac{1}{2}$	$-\frac{\sqrt{2}}{2}$	$-\frac{\sqrt{3}}{2}$	-1	$-\frac{\sqrt{3}}{2}$	$-\frac{\sqrt{2}}{2}$	$-\frac{1}{2}$
$\tan(\alpha)$	0	$\frac{\sqrt{3}}{3}$	1	$\sqrt{3}$	n.d.	$-\sqrt{3}$	-1	$-\frac{\sqrt{3}}{3}$	0	$\frac{\sqrt{3}}{3}$	1	$\sqrt{3}$	n.d.	$-\sqrt{3}$	-1	$-\frac{\sqrt{3}}{3}$

In der obigen Tabelle steht «n.d.» für «nicht definiert» (vertikale Geraden!).

✂ Lösung zu Aufgabe 12.9 ex-trig-im-dreieck-vorwaerts



- a)  $a$  ist die Gegenkathete bezüglich dem Winkel  $\alpha$ . Also  $\frac{a}{c} = \sin(\alpha)$  also  $c = \frac{a}{\sin(\alpha)} \approx 11.69521760 \approx 11.70$ . Die Seite  $b$  kann nun entweder mit dem Satz von Pythagoras oder mit dem Tangens berechnet werden:  $\frac{a}{b} = \tan(\alpha)$  also  $b = \frac{a}{\tan(\alpha)} \approx 10.989909 \approx 10.99$ .
- b)  $a$  ist die Ankathete von  $\beta$ , also  $\cos(\beta) = \frac{a}{c}$  und damit  $a = c \cdot \cos(\beta) \approx 1.92836282 \approx 1.928$ .  
 $b$  ist die Gegenkathete von  $\beta$ , also  $\sin(\beta) = \frac{b}{c}$  und damit  $b = c \cdot \sin(\beta) \approx 2.298133329 \approx 2.298$ .
- c)  $b$  ist die Ankathete zum Winkel  $\alpha$ , also  $\cos(\alpha) = \frac{b}{c}$  und damit  $c = \frac{b}{\cos(\alpha)} \approx 6.10387294 \approx 6.104$   
**Achtung:** Wird  $c$  weiter gerechnet, ist unbedingt das **ungerundete** Resultat zu verwenden! Ansonsten können Rundungsfehler auftreten!  
 $a = \sqrt{c^2 - b^2} \approx 3.501037 \approx 3.501$ .
- d)  $a$  ist die Ankathete zum Winkel  $\beta$ , also  $\cos(\beta) = \frac{a}{c}$  und damit  $c = \frac{a}{\cos(\beta)} \approx 3.48689359 \approx 3.487$ .  
 $\tan(\beta) = \frac{b}{a}$  also  $b = a \cdot \tan(\beta) \approx 2.8562960 \approx 2.856$ .

✂ Lösung zu Aufgabe 12.10 ex-trig-im-dreieck-textaufgaben-vorwaerts

- a) Man betrachtet das rechtwinkliges Dreieck mit Hypotenuse parallel zur Flugrichtung und vertikaler (Gegen-)Kathete  $a = 1$  m und den Gegenüberliegenden Winkel  $7^\circ$ . Gesucht ist die horizontale (An-)Kathete  $b$ . Also  $\frac{a}{b} = \tan(7^\circ)$  und damit  $b = \frac{a}{\tan(7^\circ)} \approx 8.144346 \approx 8.144$ .  
Die Gleitzahl ist also der Quotient von Ankathete über Gegenkathete, also die Cotangens-Funktion.
- b) Die Höhe  $h$  des Turm ist die Gegenkathete vom Blickwinkel. Gesucht ist die horizontale Distanz, also die Ankathete  $d$ . Damit gilt  $\tan(20^\circ) = \frac{h}{d}$  d.h.  $d = \frac{h}{\tan(20^\circ)} \approx 2280.40625 \approx 2280$  m.
- c) Es gilt  $\sin(\alpha) = \frac{F_{HA}}{F_G}$ , was genau dem gesuchten Verhältnis entspricht:  
 $\sin(10^\circ) \approx 0.1736481776 \approx 17.36\%$ .

✂ Lösung zu Aufgabe 12.11 ex-arcusfunktionen-von-hand

- |                |               |                |                |
|----------------|---------------|----------------|----------------|
| a) $0^\circ$   | b) $90^\circ$ | c) $0^\circ$   | d) $90^\circ$  |
| e) $0^\circ$   | f) $45^\circ$ | g) $-90^\circ$ | h) $180^\circ$ |
| i) $-45^\circ$ | j) $45^\circ$ | k) $120^\circ$ | l) $60^\circ$  |

✂ Lösung zu Aufgabe 12.12 ex-arcusfunktionen-zeichnen

Siehe S. 51 im Formelbuch «Fundamentum in Mathematik und Physik». Beachten Sie, dass dort die Winkel im **Bogenmass** angegeben sind.

✂ Lösung zu Aufgabe 12.13 ex-trig-im-dreieck-textaufgaben-rueckwaerts

- a) Die Gleitzahl ist der Cotangens (bzw. der Kehrwert vom Tangens) vom Gleitwinkel. Damit gilt  $\tan(\alpha) = \frac{1}{50}$  und damit  $\alpha = \arctan\left(\frac{1}{50}\right) \approx 1.146^\circ$ .



b) Machen Sie eine Skizze der Situation und beschriften Sie das entstehende rechtwinklige Dreieck. Daraus folgt  $\tan(\alpha) = \frac{8}{4}$  und somit  $\alpha = \arctan(2) \approx 63.43^\circ$

c) Die Steigung ist 0.2, also  $\tan(\alpha) = 0.2$ . Somit ist  $\alpha = \arctan(0.2) \approx 11.31^\circ$ .

d) Das GPS hat offenbar nur die horizontale Distanz gemessen (das, was man auf der flachen Karte messen würde). Der Tachometer aber misst die schräge Distanz. Wenn man als Näherung annimmt, dass die Strecke ein konstantes Gefälle hatte und man ein Distanz/Höhen-Diagramm zeichnet, erhält man als Näherung ein rechtwinkliges Dreieck, mit Hypotenuse 8.271 km und Kathete 8.115 km. Für den Steigungswinkel gilt:  $\cos(\alpha) = \frac{8.115}{8.271}$  und damit  $\alpha \approx \arccos(0.981) \approx 11.15^\circ$ . Die Steigung ist also  $\tan(\alpha) \approx 19.7\%$ .

✂ Lösung zu Aufgabe 12.14 ex-frequenz-amplitude-phase-ablesen

- a) Frequenz  $\frac{1}{2}$ , Amplitude 2, Phase  $180^\circ$ .
- b) Frequenz  $\frac{1}{4}$ , Amplitude  $\frac{3}{2}$ , Phase  $90^\circ$ .
- c) Frequenz  $\frac{1}{6}$ , Amplitude 1, Phase  $-90^\circ$ , bzw.  $270^\circ$ .
- d) Frequenz  $\frac{1}{8}$ , Amplitude 1, Phase  $0^\circ$ .

✂ Lösung zu Aufgabe 12.15 ex-frequenz-amplitude-phase-funktionen-bestimmen

- a)  $y(t) = 2 \sin(t \cdot 180^\circ + 180^\circ)$
- b)  $y(t) = \frac{3}{2} \sin(t \cdot 90^\circ + 90^\circ)$
- c)  $y(t) = \sin(t \cdot 60^\circ + 270^\circ)$
- d)  $y(t) = \sin(t \cdot 45^\circ)$

✂ Lösung zu Aufgabe 12.16 ex-frequenz-amplitude-phase-offset-funktionen-bestimmen

a) Mittelwert: 2, Amplitude 3, Frequenz  $\frac{3}{8}$ , Phase  $90^\circ$ . Daraus ergibt sich die Funktionsgleichung

$$y(t) = 2 + 3 \cdot \sin\left(90^\circ + t \cdot 360^\circ \cdot \frac{3}{8}\right)$$

b) Mittelwert: 30, Amplitude 40, Frequenz  $\frac{1}{40}$ , Phase  $180^\circ$ . Daraus ergibt sich die Funktionsgleichung

$$y(t) = 30 + 40 \cdot \sin\left(180^\circ + t \cdot 360^\circ \cdot \frac{1}{40}\right)$$

c) Mittelwert: 42, Amplitude 1, Frequenz  $\frac{1}{2}$ , Phase  $135^\circ$ . Daraus ergibt sich die Funktionsgleichung

$$y(t) = 42 + 1 \cdot \sin\left(135^\circ + t \cdot 360^\circ \cdot \frac{1}{2}\right)$$



- d) Mittelwert: -20, Amplitude 15, Frequenz  $\frac{1}{50}$ , Phase  $36^\circ$  ( $1/10$  der Schwingungsdauer). Daraus ergibt sich die Funktionsgleichung

$$y(t) = -20 + 15 \cdot \sin\left(36^\circ + t \cdot 360^\circ \cdot \frac{1}{50}\right)$$

✳ Lösung zu Aufgabe 12.17 ex-harmonische-schwingungen-textaufgaben

- a) Frequenz 442 Hz, Amplitude 30'000, Phase 0, Mittelwert 0. Also

$$y_1(t) = 30000 \cdot \sin(t \cdot 360^\circ \cdot 442)$$

Für die zweite Funktion rechnen wir erst die Samplenummer  $n$  in die Zeit um, nämlich  $t = n/44100$ . Damit können wir mit  $y_1$  die Funktion

$$y_2(n) = y_1(n/44100) = 30000 \cdot \sin\left(n \cdot 360^\circ \cdot \frac{442}{44100}\right)$$

definieren.

- b) Wenn man die Höhe von unten (0 cm) bis oben (20 cm) misst, dann ist der Mittelwert 10 cm. Die Amplitude ist damit 10 [cm], die Frequenz 0.5 Hz und die Phase (abhängig von der Wahl der positiven Höhe)  $-90^\circ$  (weil zum Zeitpunkt 0 die Auslenkung voll negativ ist, bzw. die entsprechende Kreisbewegung sich am Tiefpunkt befindet). Damit die die Funktionsgleichung

$$y(t) = 10 + 10 \sin\left(t \cdot 360^\circ \cdot \frac{1}{2}\right)$$

Die Geschwindigkeit auf dem tiefsten und höchsten Punkt sind 0 (dort kehrt die Bewegung um).

In der Mitte ist die Geschwindigkeit genau so gross, wie die entsprechenden Geschwindigkeit auf der Kreisbewegung (Radius 10, eine Umdrehung pro 2 Sekunden). Der Umfang  $U$  ist  $10 \cdot 2 \cdot \pi$  und damit ist die Geschwindigkeit  $\frac{U}{2s}$ , also  $\approx 0.3142$  m/s.

- c) Zeiteinheit: Tage. Frequenz:  $\frac{1}{365}$ , Mittelwert  $90 - 47.42 = 42.58$  [°]. Amplitude 23.44 [°]. Für die Phase überlegen wir uns erst, wann der steigende Nullpunktsdurchgang ist, nämlich am 21. März (Frühlingsbeginn). D.h.  $31 + 28 + 21 = 80$  [d]. Wenn man von diesem Datum zurückrechnet, muss die Phase also  $-\frac{80}{365} \cdot 360^\circ$  sein. Somit hat man die Funktionsgleichung ( $t$  in Tagen, Resultat in Grad):

$$y(t) = 42.58 + 23.44 \cdot \sin\left(-\frac{80}{365} \cdot 360^\circ + t \cdot 360^\circ \cdot \frac{1}{365}\right)$$

Man sucht jetzt  $t$  so, dass  $y(t) = 60$ . Wenn man die Lösung des Taschenrechners ausmultipliziert erhält man:

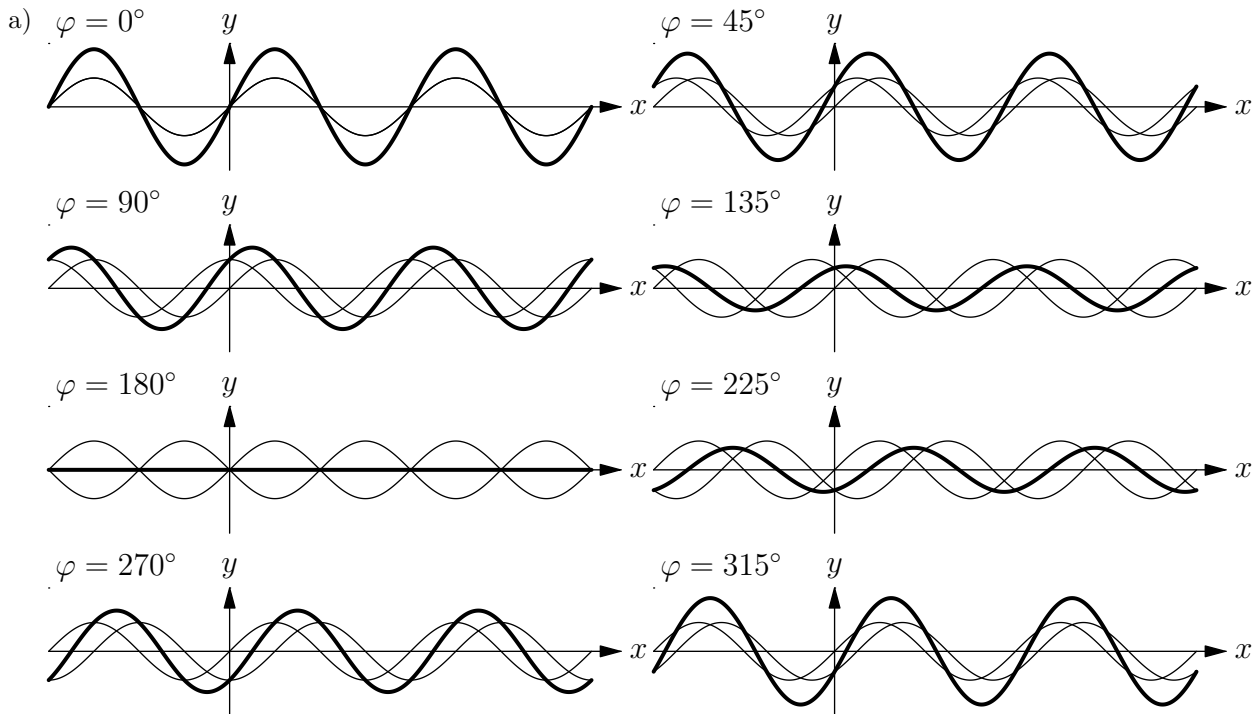
$$t \approx 129 + k \cdot 360^\circ \quad \text{oder} \quad t \approx 214 + k \cdot 360^\circ \quad \text{mit } k \in \mathbb{Z}$$

Als Datum umgerechnet erhält man etwa 9. Mai und 2. August.

- d) Mittelwert: 12.17 [h], Amplitude: Hälfte der Differenz, also  $(15 : 55 - 8 : 25)/2 = 3 : 45 = 3.75$  [h]. Frequenz  $\frac{1}{365}$  und Phase (siehe obere Aufgabe):  $-\frac{80}{365} \cdot 360^\circ$ . Damit ergibt sich die Funktion (Zeit  $t$  in Tagen, Resultat in Stunden):

$$y(t) = 12.17 + 3.75 \cdot \sin\left(-\frac{80}{365} \cdot 360^\circ + t \cdot 360^\circ \cdot \frac{1}{365}\right)$$

✳ Lösung zu Aufgabe 12.18 ex-schwingungen-ueberlagern



- b) Gleicher Kreisradius 1, gleiche Geschwindigkeit (Frequenz  $1/360^\circ$ ), konstanter Winkel dazwischen, nämlich  $\varphi$ .
- c) Man hängt den Vektor (Pfeil) von  $O$  zu  $P_f$  bei  $P_g$  an. Die Spitze zeigt dann zu  $P_h$ . Dieser führt ebenfalls eine Kreisbewegung aus, mit gleicher Frequenz, aber i.A. anderer Amplitude und Phase.
- d) Machen Sie eine gute Skizze, um die Beschreibung zu verstehen! Die Punkte  $O$ ,  $P_f$ ,  $P_h$  und  $P_g$  bilden ein Rhombus (gleichseitiges Parallelogramm). Damit ist die Phase gleich dem Winkel  $\angle P_f O P_h = \frac{\varphi}{2}$ .
- e) Machen Sie eine gute Skizze, um die Beschreibung zu verstehen! Die Punkte  $O$ ,  $P_f$ ,  $P_h$  und  $P_g$  bilden ein Rhombus (gleichseitiges Parallelogramm). Sei  $E$  der Diagonalschnittpunkt.  $\triangle O P_f E$  ist rechtwinklig mit  $\angle P_f O E = \frac{\varphi}{2}$ . Die Strecke  $O E$  ist Ankathete,  $O P_f$  die Hypotenuse mit Länge 1. Damit ist  $\overline{O E} = |\cos(\varphi/2)|$  die Hälfte vom gesuchten Radius. Damit ist die Amplitude also  $|2 \cdot \cos(\varphi/2)|$ .  
Alternativlösung: Zum Zeitpunkt  $x = 0$  gilt  $P_f = (1, 0)$ ,  $P_g = (\cos(\varphi), \sin(\varphi))$  und somit  $P_h = (1 + \cos(\varphi), \sin(\varphi))$ . Die Amplitude ist der Abstand des Punktes  $P_h$  vom Ursprung  $(0, 0)$ , also nach Pythagoras

$$\sqrt{(1 + \cos(\varphi))^2 + (\sin(\varphi))^2} = \sqrt{1 + 2 \cos(\varphi) + (\cos(\varphi))^2 + (\sin(\varphi))^2} = \sqrt{1 + 2 \cos(\varphi) + 1} = \sqrt{2 + 2 \cos(\varphi)}$$

Bemerkung: Man kann mit Hilfe der sogenannten Additionstheoreme für trigonometrische Funktionen zeigen, dass  $2 + 2 \cos(\varphi) = 4 \cos^2(\varphi/2)$  gilt und somit beide Lösungswege dasselbe Resultat liefern.

- f) Das ist für  $120^\circ$  und  $240^\circ$  der Fall, wenn der Rhombus aus zwei gleichseitigen Dreiecken besteht.

✳️ Lösung zu Aufgabe 12.19 ex-schwingungen-ueberlagern-textaufgaben

- a) Die Funktion, die die Spannung in in Volt zur Zeit  $t$  in Sekunden beschreibt ist

$$y(t) = 310 \cdot \sin(t \cdot 50 \cdot 360^\circ).$$

Die Differenz zwischen obiger Funktion und einer Schwingung mit Phase  $120^\circ$  ist wie die Summe mit einer Schwingung mit Phase  $-60^\circ$ . Im entsprechenden Rhombus erhält man die neue Amplitude  $a \cdot \cos(30^\circ) \cdot 2 = a \cdot \sqrt{3}$ , wobei  $a$  die ursprüngliche Amplitude ist. Daraus ergibt sich «Gleichstromäquivalent» von  $220 \cdot \cos(30^\circ) \cdot 2 = 220 \cdot \sqrt{3} \approx 380$  [V].

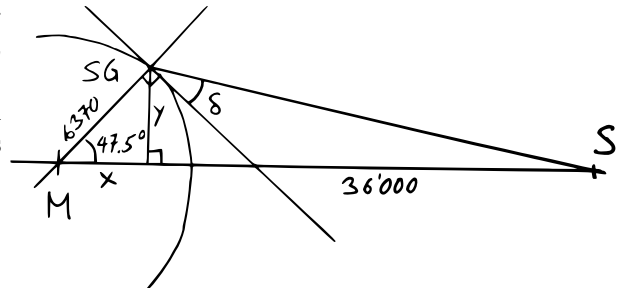
✳️ Lösung zu Aufgabe 12.23 ex-trigo-repe

- a) Schätzung mit dem TR überprüfen.





- b) Siehe a).
- c) Erste Gleichung ist falsch (könnte mit einem negativen Vorzeichen auf einer Seite korrigiert werden). Zweite Gleichung ist richtig (die Phase vom cos ist  $90^\circ$ . Die dritte ist falsch, die Steigung ändert das Vorzeichen, wenn man an der  $x$ -Achse spiegelt. Die vierte ist somit richtig.
- d) Wenn  $l$  die Länge ist (Hypotenuse), dann gilt  $\sin(3.5^\circ) = \frac{0.5}{l}$  und damit  $l = \frac{0.5}{\sin(3.5^\circ)} \approx 8.190$ . Die Rampe müsste also knapp 8.2 m lang sein.
- e) Der Schnittwinkel ist doppelt so gross, wie der kleine Winkel im Dreieck, das eine Diagonale aus dem Rechteck bildet. Daraus folgt  $\alpha = 2 \arctan\left(\frac{1}{2}\right) \approx 53.13^\circ$ .
- f) Der Winkel  $\alpha$  ist entweder  $\arctan(2) \approx 63.43^\circ$  oder  $\arctan(2) + 180^\circ \approx 243.43^\circ$ . Daraus ergeben sich die ungefähren Sinus- und Cosinuswerte von entweder 0.8944 und 0.4472 oder  $-0.8944$  und  $-0.4472$ . Als alternativen Lösungsweg könnte man auch mit zwei Unbekannten  $y = \sin(\alpha)$  und  $x = \cos(\alpha)$  folgendes System lösen:  $x^2 + y^2 = 1$  und  $\frac{y}{x} = 2$  und erhält die exakten Lösungen  $y = \pm \frac{2}{\sqrt{5}}$  und  $x = \pm \frac{1}{\sqrt{5}}$ .
- g) Machen Sie ein gute Skizze und stellen Sie fest, dass sich die Diagonalen rechtwinklig schneiden. Damit ergibt sich die andere Diagonale mit Hilfe des Satzes von Pythagoras:  $f = 2\sqrt{s^2 - \left(\frac{e}{2}\right)^2} \approx 13.23$ . Für den Winkel  $\alpha$  Betrachtet man das rechtwinklige Dreieck, gebildet aus einer Seite und zwei halben Diagonalen. Dort gilt:  $\cos\left(\frac{\alpha}{2}\right) = \frac{\frac{e}{2}}{s}$  und damit  $\frac{\alpha}{2} = \arccos\left(\frac{\frac{e}{2}}{s}\right) \approx 41.41^\circ$ . Damit ist  $\alpha \approx 82.82$ . Daraus ergibt sich  $\beta = 180^\circ - \alpha \approx 97.18^\circ$ .
- h) Im Würfel drin kann ein rechtwinkliges Stützdreieck gezeichnet werden, mit Katheten Seitenlänge  $s$  und Flächendiagonalen  $\sqrt{2} \cdot s$ . Damit ist  $\tan(\varepsilon) = \frac{s}{\sqrt{2} \cdot s} = \frac{1}{\sqrt{2}}$ . Und somit ist  $\varepsilon = \arctan\left(\frac{1}{\sqrt{2}}\right) \approx 35.26^\circ$ .
- i) Gesucht ist der Winkel  $\delta$ . Dazu wird erst der Winkel  $\angle M S G S$  berechnet, für welchen zuerst  $\sigma = \angle M S S G$  (sigma, griechisches «s») berechnet wird. Es gilt  $\tan(\sigma) = \frac{y}{\frac{36000+3670-x}{2}}$ . Wobei  $y = \sin(47.5^\circ) \cdot 6370$  und  $y = \cos(47.5^\circ) \cdot 6370$ . Daraus ergibt sich  $\sigma = \arctan\left(\frac{y}{\frac{36000+3670-x}{2}}\right) \approx 7.033^\circ$ . Damit ist  $\angle M S G S = 180^\circ - 47.5^\circ - \sigma \approx 125.5^\circ$ . Und somit ist  $\delta = \angle M S G S - 90^\circ \approx 35.47^\circ$ .



✂ Lösung zu Aufgabe 12.24 ex-trigo-repe-plus

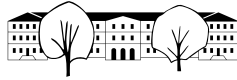
- a) Amplitude: 2, Phase  $45^\circ$ , Frequenz  $\frac{1}{2}$ . Nulldurchgänge bei  $-\frac{1}{4}, \frac{3}{4}, \frac{7}{4}$  etc., Maxima bei  $\frac{1}{4}, \frac{9}{4}$  etc., Minima bei  $-\frac{3}{4}, \frac{5}{4}$ , etc.
- b) (1) Verschiebung nach links um « $90^\circ$ », d.h. um eine Viertelperiode (Periode ist die Zeit für eine Schwingung, d.h. der Kehrwert der Frequenz). (2) Der Graph wird mit Faktor  $\frac{1}{2}$  zur  $x$ -Achse hin gestreckt. (3) Der Graph mit Faktor  $\frac{1}{2}$  zur  $y$ -Achse hin gestreckt.
- c) Die Amplitude ist  $42.5^\circ$ , die Frequenz  $\frac{1}{24}$  (Zeit in Stunden gemessen). Die Schwingung schwingt um den Durchschnitt  $(65^\circ - 20^\circ)/2 = 22.5^\circ$ . Das Minimum wird zwischen den Zeiten  $21 : 17 \approx -2.716$  h und  $5 : 26 \approx 5.433$  h, also zum Zeitpunkt  $\approx 1.358 \approx 1 : 21$  erreicht. D.h. bezüglich der Kreisbewegung der Schwingung wird der Winkel  $-90^\circ$  für  $t \approx 1.358$  erreicht. Damit erhält man eine Gleichung für die Phase:

$$1.358 \cdot t \cdot \frac{1}{24} \cdot 360^\circ + \varphi = -90^\circ \quad t \approx -110.4^\circ$$

Damit erhält man die Funktionsgleichung

$$f(t) = 42.5^\circ \cdot \sin\left(-110.4^\circ + t \cdot \frac{1}{24} \cdot 360^\circ\right) + 22.5^\circ$$

Setzt man die Zeiten von Sonnenauf- und Untergang ein, erhält man knapp  $2^\circ$  (anstatt  $0^\circ$ , was zeigt, dass diese Funktion nur eine Näherung ist. Wobei anzumerken ist, dass der Sonnenhöchst- und Tiefststand nur abgeschätzt sind und der grösste Teil des Fehlers wohl daher stammt). Für  $t = 9.917$  liefert die Funktion  $48.87^\circ$ .



d) Amplitude 0.05, Frequenz 1, Phase  $0^\circ$ . Angaben in m und s. Daraus:

$$f(t) = 0.05 \cdot \sin(t \cdot 360^\circ)$$

Die entsprechende Kreisbewegung erfolgt auf einem Kreis mit Radius 0.05 m mit einer Umdrehung pro Sekunde. D.h. es wird pro Sekunde eine Strecke gleich dem Umfang von  $2 \cdot 0.05 \cdot \pi \approx 0.3142$  zurückgelegt. Diese Geschwindigkeit stimmt der Geschwindigkeit des Pendels im tiefsten Punkt überein. Also 31.42 cm/s.