

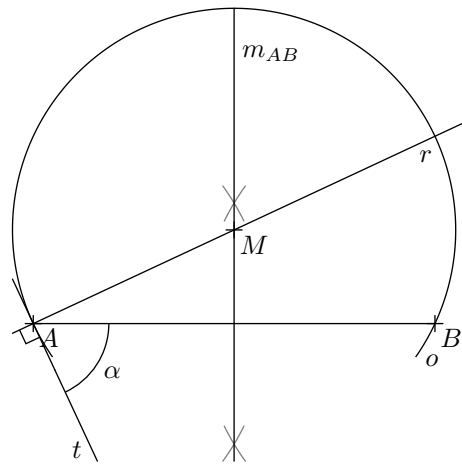


$[AB]$. Somit gilt $\overline{M_{AB}H_a} = \overline{M_{AB}H_b} = \overline{M_{AB}A}$, was zu beweisen war.

✂ Lösung zu Aufgabe 4.35 ex-geom-ort-ortsbogen0

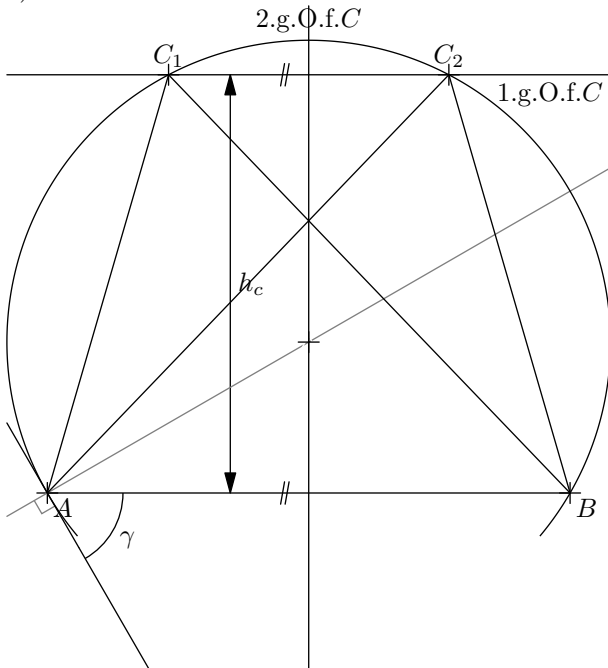
Es gilt: Der Peripheriewinkel ist gleich dem Sehnen-Tangentenwinkel. Die Tangente kann also konstruiert werden, indem der Winkel γ an der Strecke $[AB]$ abgetragen wird. Das gesuchte Ortsbogenzentrum muss einerseits auf der Rechtwinkligen dazu liegen, andererseits auf der Mittelsenkrechte m_{AB} .

1. Winkel α bei A abtragen \rightarrow Tangente t
2. \perp zu t durch A $\rightarrow r$
3. $m_{AB} \cap r$ $\rightarrow M$
4. $k(M, \overline{MA})$ \rightarrow Gesuchter Ortsbogen



✂ Lösung zu Aufgabe 4.36 ex-geom-ort-ortsbogen1

a)

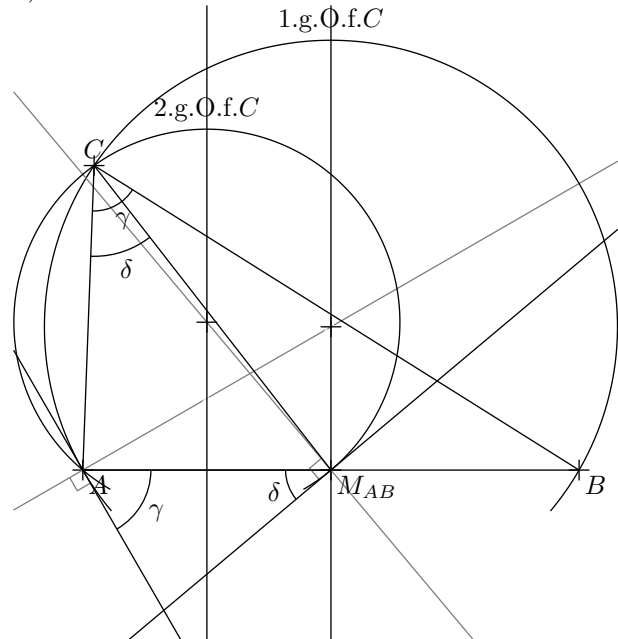


1. \parallel zu AB im Abstand h_c \rightarrow 1.g.O.f.C
2. Ortsbogen zu γ über $[AB]$ \rightarrow 2.g.O.f.C

Es gibt 2 Lösungen (die 2 an AB gespiegelten Lösungen mit anderem Umlaufsinn nicht mitgezählt).

c)

b)



1. Ortsbogen zu γ über $[AB]$ \rightarrow 1.g.O.f.C
2. Ortsbogen zu δ über $[AM_{AB}]$ \rightarrow 2.g.O.f.C

Es gibt 1 Lösung (die an AB gespiegelte Lösung mit anderem Umlaufsinn nicht mitgezählt).